



Μαθηματικά Ε' τάξης

1) Να γράψεις με μορφή κλάσματος πόσα κουτάκια σε κάθε σύνολο είναι χρωματισμένα.




2) Να χρωματίσεις:


το $\frac{1}{2}$



το $\frac{1}{4}$



το $\frac{1}{8}$



- Ποια κλασματική μονάδα είναι μεγαλύτερη;.....
 - Ποια κλασματική μονάδα είναι μικρότερη;.....
 - Ποια κλασματική μονάδα έχει μεγαλύτερο παρονομαστή;.....
 - Ποια κλασματική μονάδα έχει μικρότερο παρονομαστή;.....
 - Τι συμπέρασμα βγάζεις από τα παραπάνω;
-

3) Να συγκρίνεις τα παρακάτω ζευγάρια αριθμών χρησιμοποιώντας τα σύμβολα σύγκρισης (< , > , =).

$$\frac{1}{5} \text{ ---- } \frac{5}{5}$$

$$\frac{4}{5} \text{ ---- } \frac{5}{5}$$

$$\frac{5}{5} \text{ ---- } 1$$

$$\frac{1}{8} \text{ ---- } \frac{8}{8}$$

$$\frac{8}{8} \text{ ---- } 1$$

$$\frac{8}{8} \text{ ---- } \frac{4}{8}$$

$$\frac{6}{5} \text{ ---- } \frac{5}{5}$$

$$\frac{6}{5} \text{ ---- } 1$$

$$\frac{8}{8} \text{ ---- } \frac{9}{8}$$

$$\frac{9}{8} \text{ ---- } 1$$

4) Να βρεις:

το $\frac{1}{5}$ του 80

τα $\frac{3}{5}$ του 80

τα $\frac{5}{5}$ του 80

5) Το 1^ο Δημοτικό Σχολείο Ναυπάκτου έχει 250 μαθητές. Από αυτούς τα $\frac{2}{5}$ είναι αγόρια. Το 2^ο Δημοτικό σχολείο Ναυπάκτου έχει 200 μαθητές. Από αυτούς τα $\frac{2}{4}$ είναι αγόρια.

Πόσα αγόρια έχει το κάθε σχολείο; Ποιο σχολείο έχει τα περισσότερα;