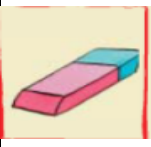

















Μαθηματικά Β' τάξης

1) Παρατηρώ πόσο κοστίζουν τα αντικείμενα, πόσα χρήματα δίνω και υπολογίζω τα ρέστα που θα πάρω πίσω.

Πόσο κοστίζει	Πόσα χρήματα δίνω	Πόσα ρέστα θα πάρω πίσω
 <p>60 λεπτά</p>		
 <p>1 € και 20 λεπτά</p>		
 <p>1 € και 10 λεπτά</p>		
 <p>80 λεπτά</p>		
 <p>1 € και 30 λεπτά</p>		
 <p>2 € και 10 λεπτά</p>		
 <p>6 € και 40 λεπτά</p>		
 <p>1 € και 70 λεπτά</p>		

* Οι εικόνες των αντικειμένων προέρχονται από το σχολικό βιβλίο «Το μικρό μου Λεξικό 2» (σελ 12,13)

2) Η Ελένη θέλει να αγοράσει από τον φούρνο μία τυρόπιτα που κοστίζει 1 € και 15 λεπτά και ένα κρουασάν που κοστίζει 1 € και 25 λεπτά.

Πόσα χρήματα κοστίζουν συνολικά αυτά που θέλει να αγοράσει;

Πράξη:

Απάντηση:

3) Ο Βασίλης αγόρασε από το περίπτερο δύο παγωτά. Το ένα παγωτό κόστιζε 1 € και 45 λεπτά και το άλλο 2 € και 10 λεπτά.

α) Πόσα χρήματα κόστισαν μαζί τα παγωτά;

Πράξη:

Απάντηση:

β) Αν ο Βασίλης έδωσε 5 € για να τα αγοράσει, πόσα ρέστα πήρε πίσω;

Πράξη:

Απάντηση: