

Μαθηματικά Β' τάξης

1) Να βάλετε τα κέρματα σε σειρά έτσι ώστε να βρίσκεται πρώτο αριστερά το μεγαλύτερο σε αξία και τελευταίο δεξιά το μικρότερο σε αξία.
















--	--	--	--	--	--	--	--

2) Να γράψετε πόσα ευρώ και πόσα λεπτά βλέπετε σε κάθε σειρά του πίνακα (όπως στο παράδειγμα)

	5 € (ευρώ) και 50 λ. (λεπτά)

3) Παρατηρώ τα κέρματα και συμπληρώνω τα κενά.

	+	=			+	=	
	+	=			+	=	
	+	=			+	=	 

4) Παρατηρώ τα κέρματα μέσα στα κουτάκια και διαλέγω τη σωστή απάντηση

- Έχω ακριβώς 1 €
- Έχω περισσότερο από 1 €
- Έχω λιγότερο από 1 €



- Έχω ακριβώς 4 €
- Έχω περισσότερο από 4 €
- Έχω λιγότερο από 4 €



5) Ο Μανώλης θέλει να αγοράσει από το φούρνο μία τυρόπιτα που κοστίζει 1 € και 20 λ. Πόσα ρέστα θα πάρει πίσω, αν στην τσέπη του έχει αυτά τα κέρματα;

